

**Демонстрационный вариант
Математика (стартовая работа)
2 класс**

Продолжительность работы: 30 минут

1

Найди закономерность, по которой составлен ряд чисел.

Вставь в пустые окошки пропущенные числа.

17, 15, 13, , .

2

Вычисли. Запиши в пустые окошки ответы.

$$7 + 2 = \square$$

$$10 + 3 = \square$$

3

Вычисли. Заполни пустые окошки .


$$14 - 10 = \square$$

$$10 - \square = 4$$


4

Рассмотри геометрические фигуры. Укажи все треугольники.


1)



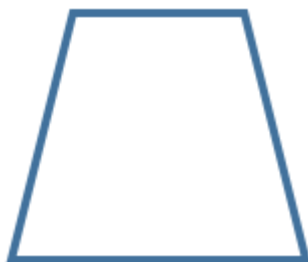
2)



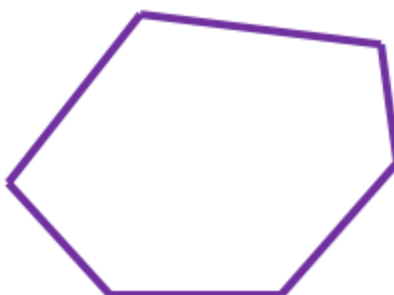
3)



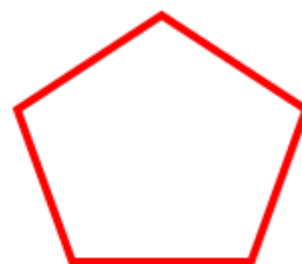
4)



5)



6)

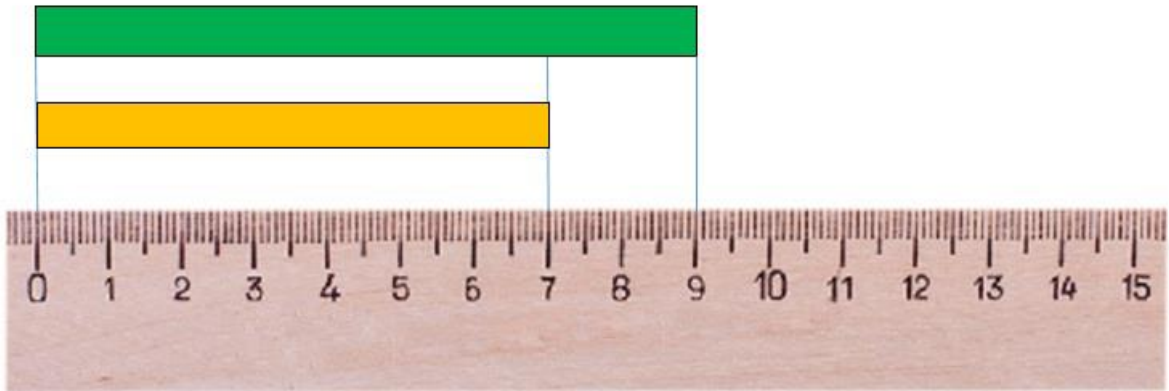


5 В банку налили 3 л молока, а в бидон – 8 л. На сколько литров молока в банке меньше, чем в бидоне?

Ответ: на _____ л.

В ответ запиши только число.

6 Рассмотрни рисунок.



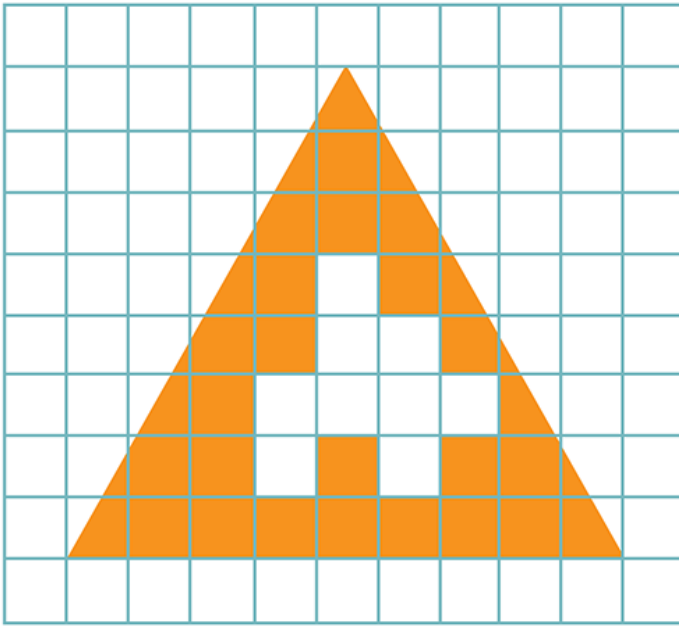
Определи, на сколько сантиметров нижняя полоска короче верхней полоски.

Ответ: на _____ см.

В ответ запиши только число.

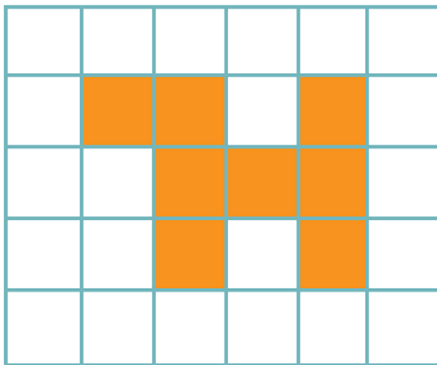
7

Рассмотри рисунок.

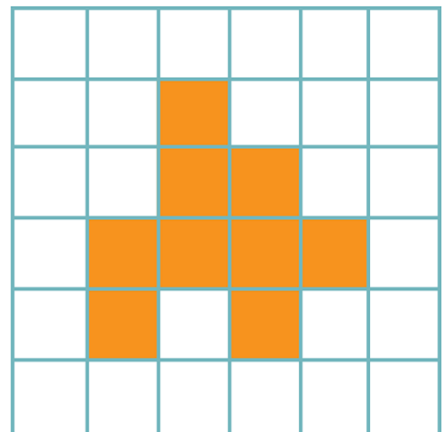


Укажи фигуру, которую вырезали из треугольника.

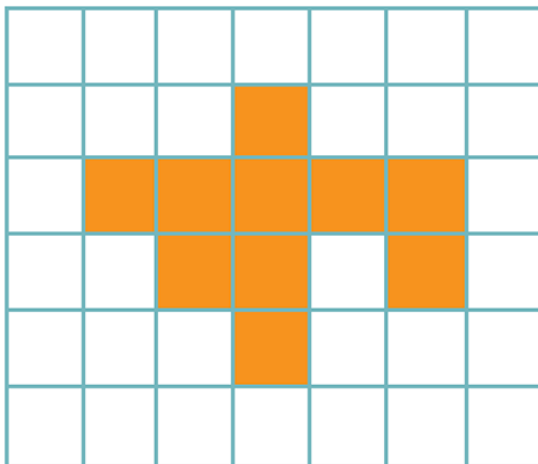
1)



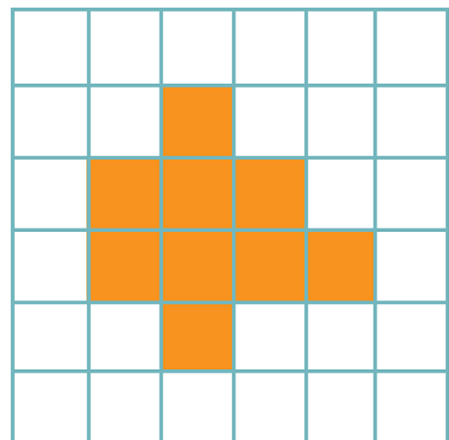
2)



3)



4)



Ответы

№ задания	Ответ
1	11;9
2	9;13
3	4;6
4	13
5	5
6	2
7	2